






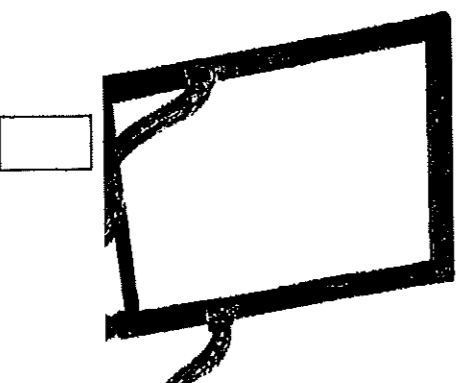


Ce document a été numérisé par le CRDP
d'Alsace pour la Base Nationale des Sujets
d'Examens de l'enseignement
professionnel

NE RIEN INSCRIRE DANS CE CADRE

Reconnaitre le style de chaque pied et l'inscrire en dessous



Associez 6 pieds de sièges avec 6 dossiers de même style en inscrivant la lettre correspondante dans le rectangle situé à côté.



C.A.P. MENUISERIE en SIEGES

Epreuve EP4: Etude des Styles et des Techniques dans l'Ameublement

Durée
1 heure

COEF: 1

Session 2012

page 2/2

Code : 50 23411

SUJET